





Sobre las líneas escribe las ovejas que hay.

1 vez 1, son _____


1 por 1, son _____

$1 \times 1 =$ _____




3 veces 1, son _____

$1 \times 3 =$ _____ $1 + 1 + 1 =$ _____



4 veces 1, son _____

$1 \times 4 =$ _____ $1 + 1 + 1 + 1 =$ _____




5 veces 1, son _____

$1 + 1 + 1 + 1 + 1 =$ _____

$1 \times 5 =$ _____




Continuación.




6 veces 1, son _____

$$1+1+1+1+1+1= \underline{\quad\quad} \quad 1 \times 6 = \underline{\quad\quad}$$



7 veces 1, son _____


$$1+1+1+1+1+1+1= \underline{\quad\quad} \quad 1 \times 7 = \underline{\quad\quad}$$



8 veces 1, son _____

$$1+1+1+1+1+1+1+1= \underline{\quad\quad}$$


$$1 \times 8 = \underline{\quad\quad}$$



9 veces 1, son _____

$$1+1+1+1+1+1+1+1+1= \underline{\quad\quad}$$

$$1 \times 9 = \underline{\quad\quad}$$



10 veces 1, son _____

$$1+1+1+1+1+1+1+1+1+1= \underline{\quad\quad}$$

$$1 \times 10 = \underline{\quad\quad}$$